

**Демонстрационный вариант
контрольных измерительных материалов
для проведения в 2014 году единого государственного экзамена
по ИНФОРМАТИКЕ и ИКТ**

Инструкция по выполнению работы

На выполнение экзаменационной работы по информатике и ИКТ отводится 235 минут. Экзаменационная работа состоит из 3 частей, содержащих 32 задания. Рекомендуем не более 1,5 часа (90 минут) отвести на выполнение заданий частей 1 и 2, а остальное время – на выполнение заданий части 3.

Часть 1 содержит 13 заданий (A1–A13). К каждому заданию даётся четыре варианта ответа, из которых только один правильный.

Часть 2 состоит из 15 заданий с кратким ответом (B1–B15). К этим заданиям Вы должны самостоятельно сформулировать и записать ответ.

Часть 3 состоит из 4 заданий (C1–C4). Для выполнения заданий этой части Вам необходимо написать развёрнутый ответ в произвольной форме.

Все бланки ЕГЭ заполняются яркими чёрными чернилами. Допускается использование гелевой, капиллярной или перьевой ручек.

При выполнении заданий Вы можете пользоваться черновиком. Обращаем Ваше внимание на то, что записи в черновике не будут учитываться при оценивании работы.

Советуем выполнять задания в том порядке, в котором они даны. Для экономии времени пропускайте задание, которое не удаётся выполнить сразу, и переходите к следующему. Если после выполнения всей работы у Вас останется время, Вы сможете вернуться к пропущенным заданиям.

Баллы, полученные Вами за выполненные задания, суммируются. Постарайтесь выполнить как можно больше заданий и набрать наибольшее количество баллов.

Желаем успеха!

В экзаменационных заданиях используются следующие соглашения.

1. Обозначения для логических связок (операций):

- a) *отрицание* (инверсия, логическое НЕ) обозначается \neg (например, $\neg A$);
- b) *конъюнкция* (логическое умножение, логическое И) обозначается \wedge (например, $A \wedge B$) либо $\&$ (например, $A \& B$);
- c) *дизъюнкция* (логическое сложение, логическое ИЛИ) обозначается \vee (например, $A \vee B$) либо $|$ (например, $A | B$);
- d) *следование* (импликация) обозначается \rightarrow (например, $A \rightarrow B$);
- e) *тождество* обозначается \equiv (например, $A \equiv B$). Выражение $A \equiv B$ истинно тогда и только тогда, когда значения A и B совпадают (либо они оба истинны, либо они оба ложны);
- f) символ 1 используется для обозначения истины (истинного высказывания); символ 0 – для обозначения лжи (ложного высказывания).

2. Два логических выражения, содержащих переменные, называются *равносильными* (эквивалентными), если значения этих выражений совпадают при любых значениях переменных. Так, выражения $A \rightarrow B$ и $(\neg A) \vee B$ равносильны, а $A \vee B$ и $A \wedge B$ не равносильны (значения выражений разные, например, при $A = 1, B = 0$).

3. Приоритеты логических операций: инверсия (отрицание), конъюнкция (логическое умножение), дизъюнкция (логическое сложение), импликация (следование), тождество. Таким образом, $\neg A \wedge B \vee C \wedge D$ означает то же, что и $((\neg A) \wedge B) \vee (C \wedge D)$.

Возможна запись $A \wedge B \wedge C$ вместо $(A \wedge B) \wedge C$. То же относится и к дизъюнкции: возможна запись $A \vee B \vee C$ вместо $(A \vee B) \vee C$.

4. Обозначения Мбайт и Кбайт используются в традиционном для информатики смысле – как обозначения единиц измерения, чьё соотношение с единицей «байт» выражается степенью двойки.

Часть 1

При выполнении заданий этой части в бланке ответов № 1 под номером выполняемого Вами задания (A1–A13) поставьте знак «x» в клеточке, номер которой соответствует номеру выбранного Вами ответа.

A1 Дано $N = 227_8$, $M = 99_{16}$. Какое из чисел K , записанных в двоичной системе, отвечает условию $N < K < M$?

- 1) 10011001_2 2) 10011100_2 3) 10000110_2 4) 10011000_2

A2 Между населёнными пунктами A, B, C, D, E, F построены дороги, протяжённость которых приведена в таблице. (Отсутствие числа в таблице означает, что прямой дороги между пунктами нет.)

	A	B	C	D	E	F
A		2	4	6		16
B	2			3		
C	4			3		
D	6	3	3		4	9
E				4		3
F	16			9	3	

Определите длину кратчайшего пути между пунктами A и F (при условии, что передвигаться можно только по построенным дорогам).

- 1) 12 2) 13 3) 14 4) 16

A3 Дан фрагмент таблицы истинности выражения F.

x1	x2	x3	x4	x5	x6	x7	x8	F
1	1	0	1	1	1	1	1	0
1	0	1	0	1	1	0	1	1
0	1	0	1	1	0	1	1	1

Каким выражением может быть F?

- 1) $\neg x1 \wedge x2 \wedge \neg x3 \wedge x4 \wedge x5 \wedge \neg x6 \wedge x7 \wedge x8$
 2) $\neg x1 \vee \neg x2 \vee x3 \vee \neg x4 \vee \neg x5 \vee \neg x6 \vee \neg x7 \vee \neg x8$
 3) $x1 \wedge \neg x2 \wedge x3 \wedge \neg x4 \wedge x5 \wedge x6 \wedge \neg x7 \wedge x8$
 4) $x1 \vee \neg x2 \vee x3 \vee \neg x4 \vee \neg x5 \vee x6 \vee \neg x7 \vee \neg x8$

A4 Для групповых операций с файлами используются **маски имён файлов**. Маска представляет собой последовательность букв, цифр и прочих допустимых в именах файлов символов, в которых также могут встречаться следующие символы.

Символ «?» (вопросительный знак) означает ровно один произвольный символ.

Символ «*» (звёздочка) означает любую последовательность символов произвольной длины, в том числе «*» может задавать и пустую последовательность.

Определите, по какой из масок может быть выбрана указанная группа файлов:

- comfort.c
- cobalt.cpp
- coat.c
- cost.cpp

- 1) $co?t.c?$ 2) $c*.c*$ 3) $co*t.c??$ 4) $c*.???$

A5 В некоторой информационной системе информация кодируется двоичными шестиразрядными словами. При передаче данных возможны их искажения, поэтому в конце каждого слова добавляется седьмой (контрольный) разряд таким образом, чтобы сумма разрядов нового слова, считая контрольный, была чётной. Например, к слову 110011 справа будет добавлен 0, а к слову 101100 – 1.

После приёма слова производится его обработка. При этом проверяется сумма его разрядов, включая контрольный. Если она нечётна, это означает, что при передаче этого слова произошёл сбой, и оно автоматически заменяется на зарезервированное слово 000000. Если она чётна, это означает, что сбоя не было или сбоев было больше одного. В этом случае принятое слово не изменяется.

Исходное сообщение
 1100101 1001011 0011000
 было принято в виде
 1100111 1001110 0011000.

Как будет выглядеть принятое сообщение после обработки?

- 1) 1100111 1001011 0011000
 2) 1100111 1001110 0000000
 3) 0000000 0000000 0011000
 4) 0000000 1001110 0011000

A6 Ниже представлены две таблицы из базы данных. Каждая строка таблицы 2 содержит информацию о ребёнке и об одном из его родителей. Информация представлена значением поля ID в соответствующей строке таблицы 1. Определите на основании приведённых данных фамилию и инициалы дяди Гресс О.С.

Пояснение: дядей считается родной брат отца или матери.

Таблица 1		
ID	Фамилия И.О.	Пол
14	Грач Н.А.	Ж
24	Петренко И.П.	М
25	Петренко П.И.	М
26	Петренко П.П.	М
34	Ерёма А.И.	Ж
35	Ерёма В.С.	Ж
36	Ерёма С.С.	М
44	Лебедь А.С.	Ж
45	Лебедь В.А.	М
46	Гресс О.С.	Ж
47	Гресс П.О.	М
54	Клычко А.П.	Ж
64	Крот П.А.	Ж
...

Таблица 2	
ID Родителя	ID Ребёнка
24	25
44	25
25	26
64	26
24	34
44	34
34	35
36	35
14	36
34	46
36	46
25	54
64	54
...	...

- 1) Петренко И.П. 2) Петренко П.И. 3) Лебедь В.А. 4) Гресс П.О.

A7 Коле нужно с помощью электронных таблиц построить таблицу двузначных чисел от 10 до 49.

Для этого сначала в диапазоне B1:K1 он записал числа от 0 до 9, и в диапазоне A2:A5 он записал числа от 1 до 4. Затем в ячейку B2 записал формулу двузначного числа (A2 – число десятков; B1 – число единиц), после чего скопировал её во все ячейки диапазона B2:K5. В итоге получил таблицу двузначных чисел. На рисунке ниже представлен фрагмент этой таблицы.

	A	B	C	D	E
1		0	1	2	3
2	1	10	11	12	13
3	2	20	21	22	23
4	3	30	31	32	33
5	4	40	41	42	43

Какая формула была записана в ячейке B2?

- 1) =A2*10+B1 2) =A\$2*10+B1 3) =\$A2*10+B\$1 4) =A2*10+B1

A8 Производится четырёхканальная (квадро) звукозапись с частотой дискретизации 48 кГц и 32-битным разрешением. Запись длится 2 минуты, её результаты записываются в файл, сжатие данных не производится. Какая из приведённых ниже величин наиболее близка к размеру полученного файла?

- 1) 15 Мбайт 2) 27 Мбайт 3) 42 Мбайт 4) 88 Мбайт

A9 Для передачи данных по каналу связи используется 5-битовый код. Сообщение содержит только буквы А, Б и В, которые кодируются следующими кодовыми словами:

А – 11010, Б – 00110, В – 10101.

При передаче возможны помехи. Однако некоторые ошибки можно попытаться исправить. Любые два из этих трёх кодовых слов отличаются друг от друга не менее чем в трёх позициях. Поэтому если при передаче слова произошла ошибка не более чем в одной позиции, то можно сделать обоснованное предположение о том, какая буква передавалась. (Говорят, что «код исправляет одну ошибку».) Например, если получено кодовое слово 10110, считается, что передавалась буква Б. (Отличие от кодового слова для Б – только в одной позиции, для остальных кодовых слов отличий больше.) Если принятое кодовое слово отличается от кодовых слов для букв А, Б, В более чем в одной позиции, то считается, что произошла ошибка (она обозначается 'х').

Получено сообщение 00111 11110 11000 10111. Декодируйте это сообщение – выберите правильный вариант.

- 1) БААВ 2) БААх 3) хххх 4) хААх

A10 На числовой прямой даны два отрезка: P = [1, 39] и Q = [23, 58]. Выберите из предложенных отрезков такой отрезок А, что логическое выражение

$$(x \in P) \rightarrow \neg(x \in Q) \rightarrow \neg(x \in A)$$

тождественно истинно, то есть принимает значение 1 при любом значении переменной x.

- 1) [5, 20] 2) [25, 35] 3) [40, 55] 4) [20, 40]

A11 В велокроссе участвуют 359 спортсменов. Специальное устройство регистрирует прохождение каждым из участников промежуточного финиша, записывая его номер с использованием минимально возможного количества бит, одинакового для каждого спортсмена. Какой объём памяти будет использован устройством, когда промежуточный финиш прошли 168 велосипедистов?

- 1) 168 бит 2) 168 байт 3) 189 байт 4) 359 байт

A12 Ниже приведён фрагмент программы, записанный на четырёх языках программирования. Массив *A* одномерный; в программе рассматривается его фрагмент, соответствующий значениям индекса от 1 до *n*.

Бейсик	Паскаль
<pre>J = 1 FOR I = 1 TO n IF A(I) < A(J) THEN J = I NEXT I s = J</pre>	<pre>j := 1; for i := 1 to n do begin if A[i] < A[j] then j := i; end; s := j;</pre>
Си	Алгоритмический
<pre>j = 1; for (i = 1; i <= n; i++) { if (A[i] < A[j]) { j = i; } } s = j;</pre>	<pre>j := 1 нц для i от 1 до n если A[i] < A[j] то j := i все кц s := j</pre>

Чему будет равно значение переменной *s* после выполнения данного фрагмента программы?

- 1) минимальному элементу в массиве *A*
- 2) индексу минимального элемента в массиве *A* (наименьшему из таких индексов, если минимальных элементов несколько)
- 3) индексу минимального элемента в массиве *A* (наибольшему из таких индексов, если минимальных элементов несколько)
- 4) количеству элементов, равных минимальному в массиве *A*

A13 Система команд исполнителя РОБОТ, «живущего» в прямоугольном лабиринте на клетчатой плоскости, включает в себя 4 команды-приказа и 4 команды – проверки условия. Команды-приказы:

вверх	вниз	влево	вправо
-------	------	-------	--------

При выполнении любой из этих команд РОБОТ перемещается на одну клетку соответственно: вверх ↑, вниз ↓, влево ←, вправо →. Если РОБОТ начнёт движение в сторону находящейся рядом с ним стены, то он разрушится, и программа прервётся. Другие 4 команды проверяют истинность условия отсутствия стены у каждой стороны той клетки, где находится РОБОТ:

сверху свободно	снизу свободно	слева свободно	справа свободно
-----------------	----------------	----------------	-----------------

Цикл
 ПОКА *условие*
последовательность команд
 КОНЕЦ ПОКА

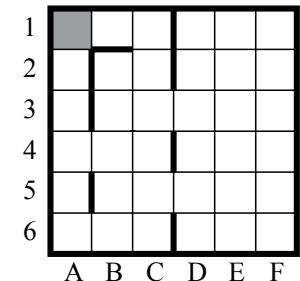
выполняется, пока условие истинно.

В конструкции
 ЕСЛИ *условие*
 ТО *команда1*
 ИНАЧЕ *команда2*
 КОНЕЦ ЕСЛИ

выполняется *команда1* (если условие истинно) или *команда2* (если условие ложно).

Сколько клеток лабиринта соответствуют требованию, что, начав движение в ней и выполнив предложенную программу, РОБОТ уцелеет и остановится в закрашенной клетке (клетка A1)?

НАЧАЛО
 ПОКА **слева свободно ИЛИ сверху свободно**
 ЕСЛИ **слева свободно**
 ТО **влево**
 ИНАЧЕ **вверх**
 КОНЕЦ ЕСЛИ
 КОНЕЦ ПОКА
 КОНЕЦ



- 1) 14
- 2) 18
- 3) 20
- 4) 22

Часть 2

Ответом к заданиям этой части (В1–В15) является число, последовательность букв или цифр. Впишите ответы сначала в текст работы, а затем перенесите их в бланк ответов № 1 справа от номера соответствующего задания, начиная с первой клеточки, без пробелов, запятых и других дополнительных символов. Каждую букву или цифру пишете в отдельной клеточке в соответствии с приведёнными в бланке образцами.

В1 У исполнителя Квадратор две команды, которым присвоены номера:

1. возведи в квадрат,
2. прибавь 1.

Первая из них возводит число на экране в квадрат, вторая увеличивает его на 1. Запишите порядок команд в программе, которая преобразует число 1 в число 10 и содержит не более 4 команд. Указывайте лишь номера команд.

(Например, программа **2122** – это программа

прибавь 1,
возведи в квадрат,
прибавь 1,
прибавь 1.

Эта программа преобразует число 3 в число 18.)

Ответ: _____.

В2 Определите значение переменной *c* после выполнения следующего фрагмента программы (записанного ниже на разных языках программирования). Ответ запишите в виде целого числа.


Бейсик	Паскаль
<pre>a = 25 b = 12 a = 3 * b - a IF a > b THEN c = 2 * a - b ELSE c = 2 * a + b ENDIF</pre>	<pre>a := 25; b := 12; a := 3 * b - a; if a > b then c := 2 * a - b else c := 2 * a + b;</pre>
Си	Алгоритмический
<pre>a = 25; b = 12; a = 3 * b - a; if (a > b) c = 2 * a - b; else c = 2 * a + b;</pre>	<pre>a := 25 b := 12 a := 3 * b - a если a > b то c := 2 * a - b иначе c := 2 * a + b все</pre>

Ответ: _____.

В3 Дан фрагмент электронной таблицы.

	A	B	C
1	8		6
2	$=(B1+1)/(2*A1)$	$=1/(B1+1)$	$=3/(2*B1+C1)$

Какое целое число должно быть записано в ячейке В1, чтобы построенная после выполнения вычислений диаграмма по значениям диапазона ячеек А2:С2 соответствовала рисунку?



Известно, что все значения диапазона, по которым построена диаграмма, имеют один и тот же знак.

Ответ: _____.

В4 Для передачи аварийных сигналов договорились использовать специальные цветные сигнальные ракеты, запускаемые последовательно. Одна последовательность ракет – один сигнал; в каком порядке идут цвета – существенно. Какое количество различных сигналов можно передать при помощи запуска ровно пяти таких сигнальных ракет, если в запасе имеются ракеты трёх различных цветов (ракет каждого вида неограниченное количество, цвет ракет в последовательности может повторяться)?

Ответ: _____.

B5 Запишите число, которое будет напечатано в результате выполнения программы (для Вашего удобства программа представлена на четырёх языках программирования).

Бейсик	Паскаль
<pre>DIM N, S AS INTEGER N = 0 S = 0 WHILE S <= 325 S = S + 10 N = N + 3 WEND PRINT N</pre>	<pre>var n, s: integer; begin n := 0; s := 0; while s <= 325 do begin s := s + 10; n := n + 3 end; write(n) end.</pre>
Си	Алгоритмический
<pre>#include<stdio.h> void main() { int n, s; n = 0; s = 0; while (s <= 325) { s = s + 10; n = n + 3; } printf("%d", n); }</pre>	<pre>алг нач цел n, s n := 0 s := 0 <u>нц пока</u> s <= 325 s := s + 10 n := n + 3 <u>кц</u> <u>вывод</u> n <u>кон</u></pre>

Ответ: _____.

B6 Алгоритм вычисления значения функции $F(n)$, где n – натуральное число, задан следующими соотношениями:
 $F(n) = 1$ при $n \leq 2$;
 $F(n) = F(n - 1) + 2 \times F(n - 2)$ при $n > 2$.
 Чему равно значение функции $F(7)$?

В ответе запишите только натуральное число.

Ответ: _____.

B7 Укажите наименьшее основание системы счисления, в которой запись десятичного числа 30 имеет ровно три значащих разряда.

Ответ: _____.

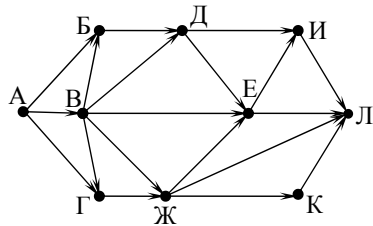
B8 Ниже на четырёх языках записан алгоритм. Получив на вход число x , этот алгоритм печатает два числа: a и b . Укажите наименьшее из таких чисел x , при вводе которых алгоритм печатает сначала 13, а потом 5.

Бейсик	Паскаль
<pre>DIM X, A, B, C AS INTEGER INPUT X A = 0: B = 10 WHILE X > 0 C = X MOD 10 A = A + C IF C < B THEN B = C X = X \ 10 WEND PRINT A PRINT B</pre>	<pre>var x, a, b, c: integer; begin readln(x); a := 0; b := 10; while x>0 do begin c := x mod 10; a := a+c; if c<b then b := c; x := x div 10; end; writeln(a); write(b); end.</pre>
Си	Алгоритмический
<pre>#include<stdio.h> void main() { int x, a, b, c; scanf("%d", &x); a = 0; b = 10; while (x>0) { c = x%10; a = a+c; if (c<b) b = c; x = x/10; } printf("%d\n%d", a, b); }</pre>	<pre><u>алг</u> <u>нач</u> <u>цел</u> x, a, b, c <u>ввод</u> x a := 0; b := 10 <u>нц пока</u> x>0 c := mod(x,10) a := a+c <u>если</u> c<b <u>то</u> b := c <u>все</u> x := div(x,10) <u>кц</u> <u>вывод</u> a, <u>нс</u>, b <u>кон</u></pre>

Ответ: _____.

B9 На рисунке – схема дорог, связывающих города А, Б, В, Г, Д, Е, Ж, И, К, Л. По каждой дороге можно двигаться только в одном направлении, указанном стрелкой.

Сколько существует различных путей из города А в город Л?



Ответ: _____.

B10 Документ объёмом 16 Мбайт можно передать с одного компьютера на другой двумя способами.

- А. Сжать архиватором, передать архив по каналу связи, распаковать.
- Б. Передать по каналу связи без использования архиватора.

Какой способ быстрее и насколько, если:

- средняя скорость передачи данных по каналу связи составляет 2^{21} бит в секунду;
- объём сжатого архиватором документа равен 25% исходного;
- время, требуемое на сжатие документа, – 12 секунд, на распаковку – 3 секунды?

В ответе напишите букву А, если быстрее способ А, или Б, если быстрее способ Б. Сразу после буквы напишите число, обозначающее, на сколько секунд один способ быстрее другого.

Так, например, если способ Б быстрее способа А на 23 секунды, в ответе нужно написать Б23.

Единицы измерения «секунд», «сек.», «с.» к ответу добавлять не нужно.

Ответ: _____.

B11 В терминологии сетей TCP/IP маской сети называется двоичное число, определяющее, какая часть IP-адреса узла сети относится к адресу сети, а какая – к адресу самого узла в этой сети. Обычно маска записывается по тем же правилам, что и IP-адрес. Адрес сети получается в результате применения поразрядной конъюнкции к заданному IP-адресу узла и маске.

По заданным IP-адресу узла и маске определите адрес сети.

IP-адрес узла: 64.128.208.194

Маска: 255.255.224.0

При записи ответа выберите из приведённых в таблице чисел четыре элемента IP-адреса сети и запишите в нужном порядке соответствующие им буквы без использования точек.

A	B	C	D	E	F	G	H
0	64	128	192	194	208	224	255

Пример.

Пусть искомым IP-адрес: 192.168.128.0, и дана таблица

A	B	C	D	E	F	G	H
128	168	255	8	127	0	17	192

В этом случае правильный ответ будет записан в виде: HBAF

Ответ: _____.

B12 В языке запросов поискового сервера для обозначения логической операции «ИЛИ» используется символ «|», а для логической операции «И» – символ «&». В таблице приведены запросы и количество найденных по ним страниц некоторого сегмента сети Интернет.

Запрос	Найдено страниц (в тысячах)
хоккей & футбол & волейбол	80
футбол & волейбол	260
хоккей & волейбол	230

Компьютер печатает количество страниц (в тысячах), которое будет найдено по следующему запросу:

(хоккей | футбол) & волейбол

Укажите целое число, которое напечатает компьютер.

Считается, что все запросы выполнялись практически одновременно, так что набор страниц, содержащих все искомые слова, не изменялся за время выполнения запросов.

Ответ: _____.

B13 У исполнителя Удвоитель две команды, которым присвоены номера:

1. прибавь 1,

2. умножь на 2.

Первая из них увеличивает число на экране на 1, вторая удваивает его.

Программа для Удвоителя – это последовательность команд.

Сколько есть программ, которые число 2 преобразуют в число 22?

Ответ: _____.

B14 Напишите в ответе число, которое будет напечатано в результате выполнения следующего алгоритма (для Вашего удобства алгоритм представлен на четырёх языках).

Бейсик	Паскаль
<pre> DIM A, B, T, M, R AS INTEGER A = -11: B = 11 M = A: R = F(A) FOR T = A TO B IF F(T) < R THEN M = T R = F(T) END IF NEXT T PRINT M+6 FUNCTION F(x) F = 2*(x*x-16)*(x*x-16)+5 END FUNCTION </pre>	<pre> var a,b,t,M,R :integer; Function F(x:integer):integer; begin F := 2*(x*x-16)*(x*x-16)+5 end; begin a := -11; b := 11; M := a; R := F(a); for t := a to b do begin if (F(t) < R) then begin M := t; R := F(t) end end; write(M+6) end. </pre>
Си	Алгоритмический
<pre> #include<stdio.h> int F(int x) { return 2*(x*x-16)*(x*x-16)+5; } void main() { int a, b, t, M, R; a = -11; b = 11; M = a; R = F(a); for (t = a; t <= b; t++) { if (F(t) < R) { M = t; R = F(t); } } printf("%d", M+6); } </pre>	<pre> алг нач цел a, b, t, M, R a := -11; b := 11 M := a; R := F(a) нц для t от a до b если F(t) < R то M := t; R := F(t) все кц вывод M+6 кон алг цел F(цел x) нач знач:=2*(x*x-16)*(x*x-16)+5 кон </pre>

Ответ: _____.

B15 Сколько существует различных наборов значений логических переменных x_1, x_2, \dots, x_{10} , которые удовлетворяют всем перечисленным ниже условиям?

$$\neg(x_1 \equiv x_2) \wedge ((x_1 \wedge \neg x_3) \vee (\neg x_1 \wedge x_3)) = 0$$

$$\neg(x_2 \equiv x_3) \wedge ((x_2 \wedge \neg x_4) \vee (\neg x_2 \wedge x_4)) = 0$$

...

$$\neg(x_8 \equiv x_9) \wedge ((x_8 \wedge \neg x_{10}) \vee (\neg x_8 \wedge x_{10})) = 0$$

В ответе **не нужно** перечислять все различные наборы значений переменных x_1, x_2, \dots, x_{10} при которых выполнена данная система равенств. В качестве ответа Вам нужно указать количество таких наборов.

Ответ: _____.

Не забудьте перенести все ответы в бланк ответов № 1.

Часть 3

Для записи ответов на задания этой части (C1–C4) используйте бланк ответов № 2. Запишите сначала номер задания (C1, C2 и т. д.), а затем полное решение. Ответы записывайте чётко и разборчиво.

C1

Требовалось написать программу, при выполнении которой с клавиатуры считывается натуральное число N , не превосходящее 10^9 , и выводится максимальная цифра этого числа. Программист торопился и написал программу неправильно. (Ниже для Вашего удобства программа представлена на четырёх языках программирования.)

Бейсик	Паскаль
<pre>DIM N AS LONG INPUT N max_digit = 9 WHILE N >= 10 digit = N MOD 10 IF digit > max_digit THEN max_digit = digit END IF N = N \ 10 WEND PRINT max_digit END</pre>	<pre>var N: longint; digit, max_digit: integer; begin readln(N); max_digit := 9; while N >= 10 do begin digit := N mod 10; if digit > max_digit then max_digit := digit; N := N div 10; end; writeln(max_digit); end.</pre>
Си	Алгоритмический язык
<pre>#include<stdio.h> int main() { long int N; int digit, max_digit; scanf("%ld", &N); max_digit = 9; while (N >= 10) { digit = N % 10; if (digit > max_digit) max_digit = digit; N = N /10; } printf("%d", max_digit); }</pre>	<pre><u>алг</u> <u>нач</u> <u>цел</u> N, digit, max_digit <u>ввод</u> N max_digit := 9 <u>нц пока</u> N >= 10 digit := mod(N, 10) <u>если</u> digit > max_digit <u>то</u> max_digit := digit <u>все</u> N := div(N, 10) <u>кц</u> <u>вывод</u> max_digit <u>кон</u></pre>

Последовательно выполните следующее.

1. Напишите, что выведет эта программа при вводе числа 423.
2. Найдите все ошибки в этой программе (их может быть одна или несколько). Для каждой ошибки:
 - 1) выпишите строку, в которой сделана ошибка;
 - 2) укажите, как исправить ошибку, – приведите правильный вариант строки.

Обратите внимание, что требуется найти ошибки в имеющейся программе, а не написать свою, возможно, использующую другой алгоритм решения. Исправление ошибки должно затрагивать только строку, в которой находится ошибка.

C2

Дан целочисленный массив из 20 элементов. Элементы массива могут принимать целые значения от 0 до 10000 включительно. Опишите на естественном языке или на одном из языков программирования алгоритм, позволяющий найти и вывести максимальное значение среди трёхзначных элементов массива, не делящихся на 9. Если в исходном массиве нет элемента, значение которого является трёхзначным числом и при этом не кратно 9, то выведите сообщение «Не найдено».

Исходные данные объявлены так, как показано ниже на примерах для некоторых языков программирования и естественного языка. Запрещается использовать переменные, не описанные ниже, но разрешается не использовать некоторые из описанных переменных.

Бейсик	Паскаль
<pre>N = 20 DIM A(N) AS INTEGER DIM I, J, MAX AS INTEGER FOR I = 1 TO N INPUT A(I) NEXT I ... END</pre>	<pre>const N = 20; var a: array [1..N] of integer; i, j, max: integer; begin for i := 1 to N do readln(a[i]); ... end.</pre>
Си	Алгоритмический язык
<pre>#include <stdio.h> #define N 20 void main() { int a[N]; int i, j, max; for (i = 0; i < N; i++) scanf("%d", &a[i]); ... }</pre>	<pre>алг нач цел N = 20 целтаб a[1:N] цел i, j, max <u>нц</u> для i от 1 до N <u>ввод</u> a[i] <u>кц</u> ... кон</pre>
Естественный язык	
<p>Объявляем массив A из 20 элементов. Объявляем целочисленные переменные I, J, MAX. В цикле от 1 до 20 вводим элементы массива A с 1-го по 20-й. ...</p>	

В качестве ответа Вам необходимо привести фрагмент программы (или описание алгоритма на естественном языке), который должен находиться на месте многоточия. Вы можете записать решение также на другом языке программирования (укажите название и используемую версию языка

программирования, например, Free Pascal 2.4) или в виде блок-схемы. В этом случае Вы должны использовать те же самые исходные данные и переменные, какие были предложены в условии (например, в образце, записанном на естественном языке).

C3

Два игрока, Петя и Ваня, играют в следующую игру. Перед игроками лежит куча камней. Игроки ходят по очереди, первый ход делает Петя. За один ход игрок может добавить в кучу **один** или **два** камня или увеличить количество камней в куче в **два** раза. Например, имея кучу из 15 камней, за один ход можно получить кучу из 16, 17 или 30 камней. У каждого игрока, чтобы делать ходы, есть неограниченное количество камней.

Игра завершается в тот момент, когда количество камней в куче становится не менее 27. Победителем считается игрок, сделавший последний ход, то есть первым получивший кучу, в которой будет 27 или больше камней.

В начальный момент в куче было S камней, $1 \leq S \leq 26$.

Будем говорить, что игрок имеет *выигрышную стратегию*, если он может выиграть при любых ходах противника. Описать стратегию игрока – значит описать, какой ход он должен сделать в любой ситуации, которая ему может встретиться при различной игре противника.

Выполните следующие задания. Во всех случаях обосновывайте свой ответ.

- а) Укажите все такие значения числа S , при которых Петя может выиграть в один ход. Обоснуйте, что найдены все нужные значения S , и укажите выигрышающий ход для каждого указанного значения S .
 б) Укажите такое значение S , при котором Петя не может выиграть за один ход, но при любом ходе Пети Ваня может выиграть своим первым ходом. Опишите выигрышную стратегию Вани.
- Укажите два таких значения S , при которых у Пети есть выигрышная стратегия, причём (а) Петя не может выиграть за один ход и (б) Петя может выиграть своим вторым ходом независимо от того, как будет ходить Ваня. Для каждого указанного значения S опишите выигрышную стратегию Пети.
- Укажите значение S , при котором:
 - у Вани есть выигрышная стратегия, позволяющая ему выиграть первым или вторым ходом при любой игре Пети, и
 - у Вани нет стратегии, которая позволит ему гарантированно выиграть первым ходом.
 Для указанного значения S опишите выигрышную стратегию Вани. Постройте дерево всех партий, возможных при этой выигрышной стратегии Вани (в виде рисунка или таблицы). На рёбрах дерева указывайте, кто делает ход; в узлах – количество камней в куче.